

## الموضوع الثاني

التاريخ:

الجزء الأول: (06 نقاط)

1- «... مثلت حركة التحرر في الهند الصينية مظهرا من مظاهر انحسار وتصفية الاستعمار التقليدي وظهور الاستعمار الجديد المجسد في القوى العظمى التي أفرزتها الحرب العالمية الثانية وعلى رأسها الولايات المتحدة الأمريكية التي اشتهرت بسياسة ملء الفراغ الإيديولوجي في المنطقة عقب انسحاب فرنسا...».

تاريخ العالم المعاصر، ص: 233

المطلوب:

أ- اشرح ما تحته خط في النصّ.

ب- على خريطة العالم المرفقة، وقّع أسماء المناطق والدول الواردة في الوثيقة.

2- عرّف بالشخصيات التالية :

- هو شي منه - الجنرال جياب - أحمد سوكارنو.

الجزء الثاني: (04 نقاط)

رغم تباين شعوب المستعمرات من حيث الموقع الجغرافي والوضع السياسي والاقتصادي والاجتماعي والرصيد التاريخي، إلا أنها اشتركت في بعض خصائصها التحررية.

المطلوب: انطلاقا من الفقرة، واعتمادا على ما درست، اكتب مقالا تاريخيا تبرز فيه:

1- الخصائص المشتركة للحركات التحررية.

2- نتائج الحركات التحررية في إفريقيا.

## الجغرافيا:

### الجزء الأول: (06 نقاط)

1- حدّد مفهوم المصطلحات التالية:

- التنمية المستدامة - الشراكة - العولمة.

2- الجدول التالي يمثل كمية إنتاج واستهلاك الاتحاد الأوروبي للموارد الطاقوية والمعدنية لسنة

: 2004

المادة	الفحم	البتروال	الحديد	الغاز الطبيعي
الإنتاج م/طن	340	165	14.8	250 مليار م <sup>3</sup>
الاستهلاك م/طن	307	750	141	420 مليار م <sup>3</sup>

المنظمة العالمية للتجارة 2005

المطلوب: علق على معطيات الجدول.

3- على خريطة آسيا المرفقة، وقّع التنبينات الأربعة.

### الجزء الثاني: (04 نقاط)

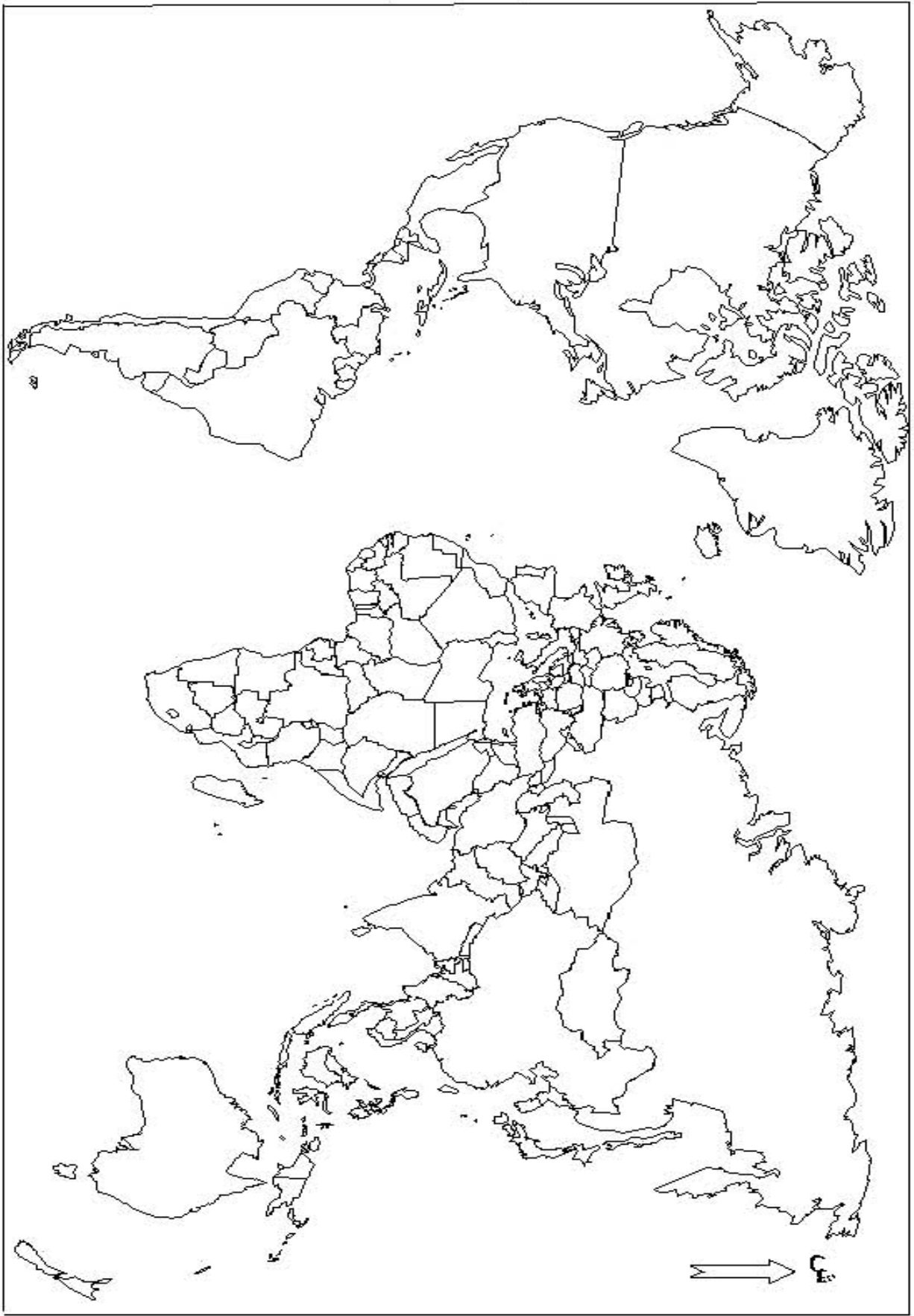
يعرف العالم تزايدا هائلا في مبادلات السلع والخدمات، وتنقلا واسعا لرؤوس الأموال والإعلام.

المطلوب: انطلاقا من الفقرة، واعتمادا على ما درست، اكتب موضوعا جغرافيا تبين فيه:

1- خصائص أسواق المواد الإستراتيجية ( الغذاء والطاقة ).

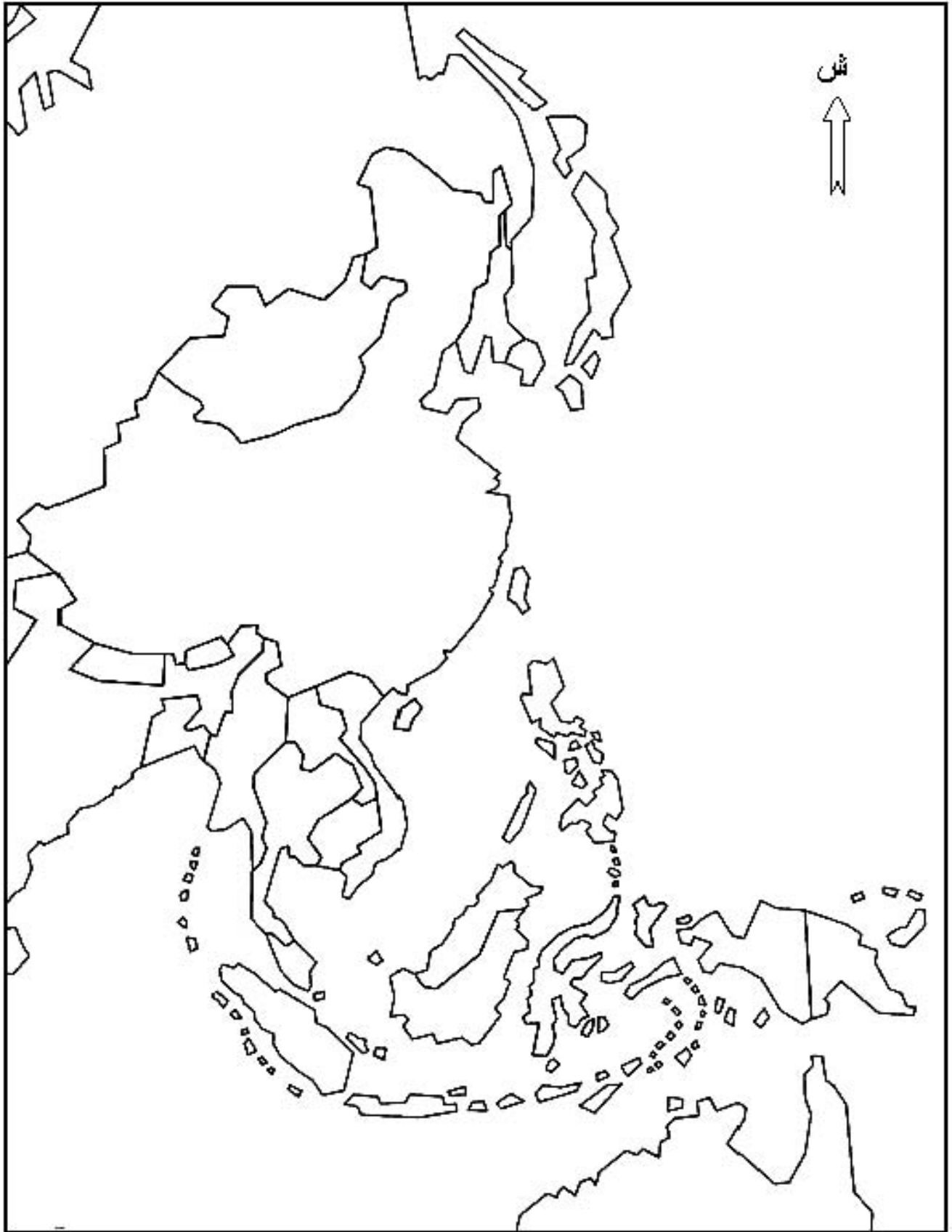
2- انعكاسات واقع المبادلات على العالم المتخلف.

## خريطة العالم




ينجز العمل المطلوب على الخريطة وتعدا مع أوراق الإجابة

خريطة شرق وجنوب شرق آسيا



ينجز العمل المطلوب على الخريطة وتعاد مع أوراق الإجابة

العلامة		عناصر الإجابة	محاوَر الموضوع
المجموع	مجزأة		
06		<b>الموضوع الثاني</b>	
		<b>التاريخ:</b>	
		<b>الجزء الأول: (06 نقاط)</b>	
		<b>أ - مفهوم المصطلحات:</b>	
	0.75	* - حركة التحرر: هو رد الفعل النضالي الوطني الذي قامت به شعوب المستعمرات في كل من إفريقيا وآسيا وأمريكا اللاتينية ضد الاستعمار الأوروبي من أجل التحرر والانعقاد.	
	0.75	* - الاستعمار التقليدي: يطلق على الحركة الاستعمارية التي ظهرت بعد الكشوفات الجغرافية والثورة الصناعية، تزعمتها كل من بريطانيا، فرنسا، هولندا والبرتغال، استعملت فيها عدة أساليب لفرض الهيمنة على شعوب إفريقيا وآسيا وأمريكا اللاتينية.	
	0.75	* - ملء الفراغ: سياسة استعمارية جديدة تبنتها الو.م. أ في عهد إيزنهاور بعد تراجع القوى الاستعمارية التقليدية وطبقتها في الهند الصينية بعد انسحاب الاستعمار الفرنسي منها.	
	1.25	<b>ب - التوقيع على خريطة العالم المناطق والدول الواردة في الوثيقة:</b>	
	0.25	* - الإنجاز:	
		* - العنوان:	
	<b>2- التعريف بالشخصيات:</b>		
0.75	* - هوشي منه: زعيم سياسي فيتنامي قاد حركة التحرر في بلاده رئيس جمهورية فيتنام الشمالية 1945.		
0.75	* - الجنرال جياب: فان غويان جياب: بطل معركة ديان بيان فو 1954 وصاحب مقولة الاستعمار تلميذ غبي لا يفهم إلا بتكرار الدرس.		
0.75	* - أحمد سوكارنو: 1901-1970، سياسي وزعيم اندونيسي، تزعم تحرير بلاده من الاستعمار الهولندي، رئيس اندونيسيا 1951-1967، ساهم في تأسيس حركة عدم الانحياز من خلال مؤتمر باندونغ 1955.		

العلامة		عناصر الإجابة	محاوّر الموضوع
المجموع	مجزأة		
			
<b>04</b>	0.5	<p style="text-align: center;"><b>الجزء الثاني: (04 نقاط)</b></p> <p>الحركات التحررية بين الخصائص المشتركة والأهداف المحققة.</p>	المقدمة:
	0.25	1- الخصائص المشتركة :	العرض:
	0.50	- وحدة العدو: الاستعمار بأشكاله المختلفة.	
	0.25	- وحدة الهدف: الاستقلال.	
	0.25	- الشمولية والشعبية.	
	0.25	- التضامن والوطنية.	
0.25	- التزامن.		
0.50	2- نتائج الحركات التحررية في إفريقيا:	الخاتمة:	
0.25	- حصول أغلب الدول على الاستقلال وتراجع الإمبراطوريات الاستعمارية		
0.25	- ظهور التضامن الأفروآسيوي.		
0.50	- القضاء على الأنظمة العميلة .		
0.50	- تزايد قوة الدول المستقلة وتكتلها في منظمات إقليمية (الوحدة الإفريقية سابقا وحركة عدم الانحياز) .		
0.50	تمكنت الحركات التحررية من تحرير الشعوب إلا أنها لم تتمكن من تحريرها من التخلف		

العلامة		عناصر الإجابة	محاور الموضوع
المجموع	مجزأة		
06		<b>الجغرافيا:</b> <b>الجزء الأول: (06 نقاط)</b>	
		<b>1- مفهوم المصطلحات:</b>	
	0.75	*- التنمية المستدامة: هي التنمية التي تلبي حاجيات الحاضر دون المساس بمستقبل الأجيال القادمة.	
	0.75	*- الشراكة: التعاون بين دولتين أو أكثر بموجب اتفاقيات ،تهدف إلى تبادل الخبرات والمنفعة لتحقيق مصالح مشتركة .	
	0.75	*- العولمة: ظاهرة فرضت نفسها منذ الثمانينات ،تتميز بتوزيع أنماط سياسية اقتصادية وثقافية ،أنتجها الشمال المتقدم	
		<b>2 - التعليق على معطيات الجدول:</b>	
	0.50	- التفاوت الكبير في الإنتاج باستثناء الفحم.	
	0.50	- طاقة إنتاجية كبيرة وقوة استهلاكية.	
	0.25	- الاستهلاك أكبر من الإنتاج دليل على الحركية الصناعية والتبعية للخارج.	
	0.50	- استهلاك الفحم أقل من الإنتاج بسبب الاعتماد على البترول والغاز والطاقات البديلة.	
	0.25	- استهلاك الحديد يفوق الإنتاج بحوالي 10 مرات وهذا مظهر من مظاهر النشاط الصناعي الواسع.	
	0.25	- استهلاك الغاز ضعف الإنتاج بسبب النشاط الاقتصادي وكذلك الظروف المناخية (البرودة)	
		<b>3 - التوقيع على خريطة آسيا:</b>	
	4×0.25	- الإنجاز - توقيع التينينات الأربعة.	
0.25	- المفتاح.		
0.25	- العنوان.		

العلامة		عناصر الإجابة	محلور الموضوع
المجموع	مجزأة		
		<p>تعيين التكتينات الآسيوية الأربعة: كوريا الجنوبية، هونغ كونغ، تايوان، سنغفورة.</p>	



العلامة		عناصر الإجابة	محاور الموضوع	
المجموع	مجزأة			
04	0.50	<b>الجزء الثاني: (04 نقاط)</b>		
	0.50	العولمة التجارية وأثرها على العالم المتخلف.		المقدمة
	0.50	1 – خصائص أسواق المواد الاستراتيجية:		
	0.25	– احتكار العالم المتقدم لتجارة المواد الاستراتيجية		
	0.25	– سيطرة المواد الغذائية والأولية على صادرات العالم المتقدم إلى العالم المتخلف.		
	0.50	– سيطرة المواد الطاقوية والأولية على صادرات العالم المتخلف.		العرض
	0.50	– تحكم العالم المتقدم في الأسواق العالمية: إنتاجا وأسعارا.		
	0.50	2 – انعكاسات واقع المبادلات على العالم المتخلف:		
	0.25	– التبعية التجارية والمالية.		
	0.50	– عجز الموازين التجارية وموازن المدفوعات.		
0.25	– ارتفاع حجم الديون الخارجية.			
0.25	– استنزاف الثروات وانتشار الأزمات في العالم المتخلف.			
0.50	ضرورة تكتل دول الجنوب والتصدي لظاهرة العولمة وانعكاساتها.	الخاتمة		
		<u>ملاحظة: تقبل الإجابات الصحيحة الأخرى.</u>		